

Intégration

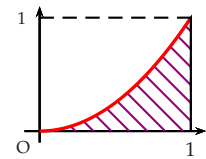
Les savoir-faire du chapitre

- ▶ 140. Calculer une intégrale à l'aide d'aires simples.
- ▶ 141. Calculer une intégrale à l'aide de primitives.
- ▶ 142. Calculer une intégrale à l'aide d'une intégration par parties.
- ▶ 143. Déterminer une aire à l'aide du calcul intégral.
- ▶ 144. Encadrer une intégrale.
- ▶ 145. Calculer et utiliser la valeur moyenne d'une fonction.

L'intro de Nabolos

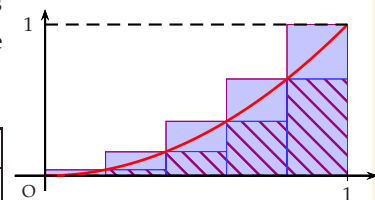
Soit f la fonction carré définie sur l'intervalle $[0 ; 1]$. On note \mathcal{C}_f sa courbe.

1. Donner un encadrement grossier de l'aire \mathcal{A} hachurée.
2. On subdivise l'intervalle $[0 ; 1]$ en 5 intervalles de même amplitude $\Delta x = 0,2$. Sur chacun des intervalles $[x_k ; x_{k+1}]$ avec $0 \leq k < 5$, on détermine la valeur minimale et maximale de la fonction carrée.



Compléter le tableau ci-dessous et déterminer l'aire \mathcal{A}_1 somme des aires des rectangles hachurés et \mathcal{A}_2 somme des aires des rectangles bleus. En déduire un encadrement de \mathcal{A} .

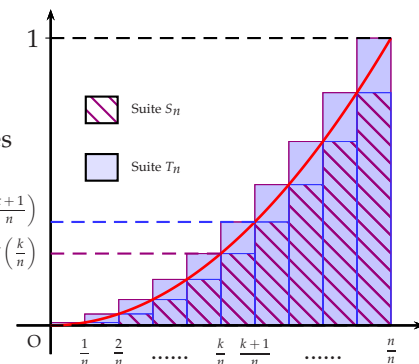
x_k	0	0,2	0,4	0,6	0,8	1
$f(x_k)$						



3. On subdivise l'intervalle $[0 ; 1]$ en n intervalles. On obtient deux séries de rectangles et on définit deux suites : La suite (S_n) des rectangles hachurés et la suite (T_n) des rectangles bleus.

Montrer que $S_n = \frac{1}{3} - \frac{1}{2n} + \frac{1}{6n^2}$ et $T_n = \frac{1}{3} + \frac{1}{2n} + \frac{1}{6n^2}$.

En déduire la valeur de \mathcal{A} . On rappelle que $\sum_{k=1}^n k^2 = \frac{n(n+1)(2n+1)}{6}$.





140 Calculer une intégrale à l'aide d'aires simples.

Dans chacun des cas suivants, calculer l'aire, exprimée en unité d'aire, du domaine compris entre la courbe représentative de la fonction f , l'axe des abscisses et les droites d'équation $x = -1$ et $x = 4$.

- 1) f est définie pour tout réel x par $f(x) = \frac{5}{2}$.
- 2) f est affine définie pour tout réel x par : $f(x) = -0,4x + 3,6$.

.....

.....

.....

.....

.....

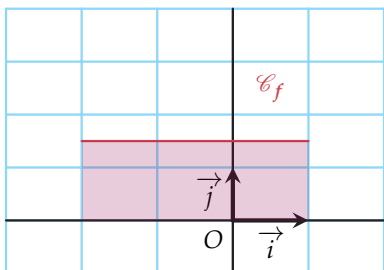
.....

140 Calculer une intégrale à l'aide d'aires simples.

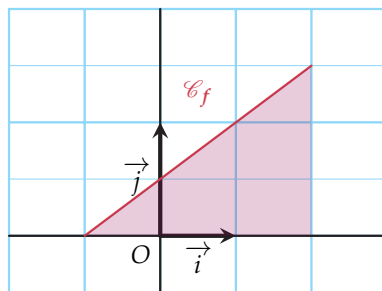
Dans chacun des cas suivants, écrire ou donner :

- 1) l'expression de la fonction f représentée en rouge ;
- 2) la description du domaine coloré ;
- 3) l'aire de ce domaine à l'aide d'une intégrale ;
- 4) l'aire de ce domaine, en u.a.

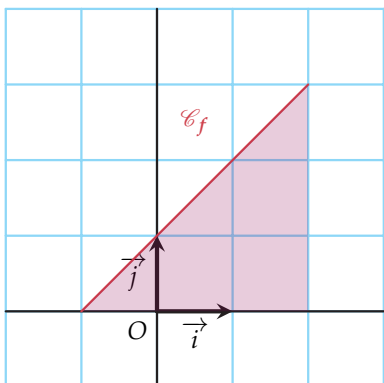
a)



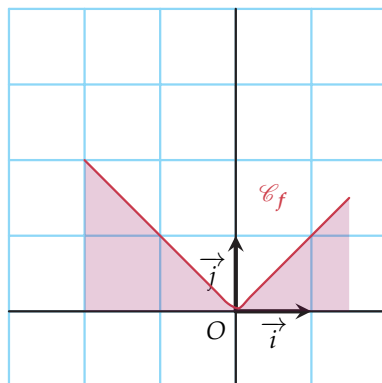
c)



b)



d)



.....

.....

.....

.....





141 Calculer une intégrale à l'aide de primitives.

Calculer chacune des intégrales suivantes à l'aide de primitives :

1) $\int_{-2}^4 x \, dx$

3) $\int_4^{25} \frac{1}{\sqrt{x}} \, dx$

5) $\int_{-\pi}^0 \sin(t) \, dt$

7) $\int_{-4}^4 u^3 + 2u \, du$

2) $\int_e^{2e} \frac{1}{x} + 1 \, dx$

4) $\int_0^2 2t^2 + 1 \, dt$

6) $\int_0^2 3e^x \, dx$

8) $\int_1^2 \frac{1}{(x+1)^2} \, dx$

.....

.....

.....

.....

.....

.....

.....

.....

.....

.....

.....

.....

.....

.....

.....

.....

.....

.....

.....

.....

.....

.....

142 Calculer une intégrale à l'aide d'une intégration par parties.

Calculer chacune des intégrales suivantes à l'aide d'une intégration par partie :

1) $\int_0^\pi x \sin(x) \, dx$

2) $\int_1^e x \ln(x) \, dx$

3) $\int_1^e \ln(x) \, dx$

4) $\int_0^{\ln(2)} (x-1)e^x \, dx$

.....

.....

.....

.....

.....

.....

.....

.....

.....

.....

.....

.....

.....

.....

.....

.....

.....

.....

.....

.....

.....

.....

.....





143 Déterminer une aire à l'aide du calcul intégral.

Calculer l'aire du domaine compris entre les courbes d'équations $y = x^2$ et $y = x^3$ et les droites d'équations $x = 0$ et $x = 1$.

.....

.....

.....

.....

.....

.....

.....

.....

.....

.....

.....

144 Encadrer une intégrale.

On considère $I = \int_0^1 \frac{1}{1+u^2} du$.

- 1) Démontrer que pour tout réel $t \geq 0 : 1 - t^2 \leq \frac{1}{1+t^2} \leq 1$.
- 2) En déduire un encadrement de I .

.....

.....

.....

.....

.....

.....

.....

.....

.....

.....

145 Calculer et utiliser la valeur moyenne d'une fonction.

Lors d'une épidémie de grippe, le nombre de malades, t jours après l'apparition des premiers cas, est modélisé par la fonction f définie sur $[0 ; 6]$ par : $f(t) = 6t^2 - t^3$.

- 1) Calculer la valeur moyenne μ de la fonction f sur $[0 ; 6]$.
- 2) Donner une interprétation de ce résultat.

.....

.....

.....

.....

.....

.....

.....

.....

.....

.....

